

1. Trova l'intruso della seguente lista di parole:

- A. Bramoso
- B. Ingordo
- C. Famelico
- D. Verace

2. Sud sta a Nord-Ovest come Ovest sta a:

- A. Nord-Est
- B. Sud-Est
- C. Nord
- D. Est

3. Completare la seguente analogia: sta a ESAGONO come AUTUNNO sta a

.....

- A. geometria / foglie
- B. ottagono / estate
- C. piramide / stagione
- D. pentagono / inverno

4. Completare la seguente analogia: sta a EVIDENTE come VIRILE sta a

- A. palese / maschile
- B. nascosto / uomo
- C. chiaro / debole
- D. certo / femminile

5. Indicare il carattere che completa la sequenza:

C, G, M, ?, U

- A. R
- B. Z
- C. Q
- D. F

6. Sono tornato da un viaggio. Oggi è giovedì. Sono arrivato quattro giorni prima del giorno dopo del giorno prima di domani. Quando sono tornato?

- A. Domenica
- B. Lunedì
- C. Mercoledì
- D. Giovedì

7. Quale numero completa la serie?

DCF - 436 . HCC - ? . CHD - 384

- A. 833
- B. 388
- C. 544
- D. 622

8. Quale parola è legata a strenna?

- A. Dono
- B. Salute
- C. Malattia
- D. Albero

9. Indicare il carattere che completa la sequenza:

a, C, b; d, F, E; g, ?, H

- A. R
- B. N
- C. I
- D. L

10. Qual è il plurale della parola "pescespada"?

- A. Pescespadi
- B. Pescespada
- C. Pescespade
- D. Pescispada

11. Se Sedia=10; Scatola=14; Biro=8; Tavola è....

- A. 10
- B. 12
- C. 6
- D. 18

12. Completare la sequenza:

V; 24; Q; 25; L; 49; E; 74; ?; ?

- A. Z; 123
- B. B; 133
- C. Q; 132
- D. Z; 135

13. "Se Anna riceve un rimprovero a scuola, piange. Se nessuno rimprovera Anna a scuola, la sua vicina di banco le fa i dispetti. Ieri Anna non ha pianto". Se le precedenti affermazioni sono vere, è possibile dedurre che ieri:

- A. Anna non è andata a scuola
- B. Anna non ha ricevuto un rimprovero a scuola e la sua vicina di banco non le ha fatto i dispetti
- C. Anna ha ricevuto un rimprovero a scuola e la sua vicina di banco le ha fatto i dispetti
- D. Anna non ha ricevuto un rimprovero a scuola e la sua vicina di banco le ha fatto i dispetti

14. Aratro : x = y : chirurgo. Individuare x e y tra le seguenti:

- A. bue-guanti sterili
- B. vanga-mascherina
- C. agricoltura-bisturi
- D. trattore-camicia

15. "Tutti i giornalisti sono aggiornati. Andrea è un esperto di finanza. Tutti gli esperti di finanza sono aggiornati." Se le affermazioni sopra riportate sono vere, quale delle seguenti è necessariamente vera?

- A. Tutti i giornalisti sono esperti di finanza
- B. Andrea è non aggiornato
- C. Esiste almeno un esperto di finanza che non è anche un giornalista
- D. Andrea è aggiornato

16. Se autovettura corrisponde a 91270522149, quale parola corrisponde a 4525?

- A. Auto
- B. Toto
- C. Rete
- D. Topo

17. Goniometro : angolo = X : Y

- A. X=Tempo, Y=Cronometro
- B. X=Odometro, Y=Velocità
- C. X=Barometro, Y=Pressione
- D. X=Termometro, Y=Gradi

18. Se $E < G$, $D < E$, $E > F$, quale delle seguenti affermazioni è sicuramente falsa?

- A. $F > D$
- B. $F < G$
- C. $G < D$
- D. $G > D$

19. Un pittore dispone di sei colori e vuole colorare un suo disegno in tanti modi quanti sono possibili combinando due colori, senza mai ripetere le combinazioni: quanti disegni colorerà?

- A. 14
- B. 15
- C. 20
- D. 21

20. Indicare il carattere che completa la sequenza:

C, F, E, H, G, L, I, ?

- A. A
- B. N
- C. L
- D. B

21. Indicare i caratteri che completano la sequenza:

BCC - 233 . EFA - 561 . ? - 252

- A. BEB
- B. BBE
- C. CHC
- D. DFF

22. Quale dei seguenti termini non è un anagramma del nome di un colore?

- A. Oren
- B. Dreve
- C. Dulcio
- D. Orsa

23. Quale tra le seguenti parole non ha radice comune con le altre?

- A. Ferrovia
- B. Inferriata
- C. Ferrochina
- D. Ferragosto

24. Quale tra i termini proposti completa correttamente la seguente proporzione?
Vetro sta a finestra come alluminio sta a:

- A. barattolo
- B. stagno
- C. tavola
- D. martello

25. Completare correttamente la seguente successione numerica:
?, 8, 7, 13, 8, 7, 13, ?

- A. 14, 6
- B. 7, 7
- C. 14, 8
- D. 13, 8

26. Viene presentata sul lato sinistro della pagina una figura ritagliata in diversi pezzi. Il Suo compito è di individuare quale delle quattro figure presentate può essere ricostruita unendo i singoli pezzi, senza che rimangano angoli o spazi tra i pezzi.



A.



B.

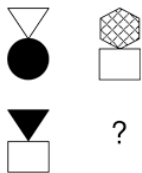


C.



D.

27. Viene presentata sul lato sinistro della pagina una sequenza di figure organizzate in base a una determinata regola. Sulla parte destra si trovano quattro possibili alternative di risposta. Il Suo compito è individuare quale delle quattro figure va collocata al posto del punto interrogativo.



A.



B.

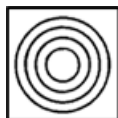
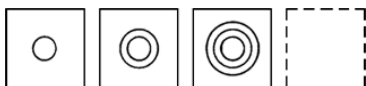


C.



D.

28. Viene presentata una serie composta da 3 immagini: il Suo compito è quello di scegliere, tra le quattro alternative di risposta, la figura che meglio completa la successione se inserita nel campo vuoto.



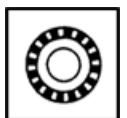
A.



B.



C.



D.

29. Sul lato sinistro della pagina viene presentata una figura ritagliata in diversi pezzi. Il Suo compito è di individuare quale delle 4 figure presentate sulla destra può essere ricostruita unendo i singoli pezzi, senza che rimangano angoli o spazi tra i pezzi.



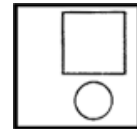
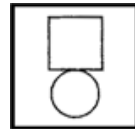
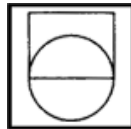
A.

B.

C.

D.

30. Nella figura di sinistra è disegnato un pallino. Scegliere tra le 4 alternative di risposta la sola figura nella quale è possibile disegnare il pallino nello stesso punto (ad esempio, dentro il quadrato e fuori dal cerchio). Bisogna dunque prima osservare bene la posizione del pallino e poi identificare tra le 4 figure a destra quella in cui il pallino potrebbe essere inserito nella stessa posizione.



A.

B.

C.

D.

31. Quale Università fu fondata in Italia nel 1088?

- A. Firenze
- B. Torino
- C. Milano
- D. Bologna

32. Lo Stato italiano riconobbe al sacramento del matrimonio, disciplinato dal Diritto Canonico, gli effetti civili:

- A. con la Legge delle Guarentigie del 1870
- B. con i Patti Lateranensi del 1929
- C. con la Legge Coppino del 1886
- D. con il Patto Gentiloni del 1913

33. Dino Buzzati è l'autore del romanzo:

- A. Il deserto dei Tartari
- B. La tregua
- C. La ciociara
- D. Il giardino dei Finzi-Contini

34. Chi tra i seguenti letterati italiani ha ottenuto il premio Nobel per la letteratura?

- A. Giacomo Leopardi
- B. Alberto Moravia
- C. Giuseppe Ungaretti
- D. Luigi Pirandello

35. Il primo uomo sbarcato sulla Luna è stato

- A. il cosmonauta statunitense Neil Armstrong nel luglio 1969**
- B. il cosmonauta statunitense Neil Armstrong nel febbraio 1984
- C. il cosmonauta sovietico Jurij Gagarin nel luglio 1969
- D. l'astronauta sovietico Jurij Gagarin nell'aprile 1987

36. La foresta Amazzonica si trova per buona parte della sua estensione in:

- A. Colombia
- B. Brasile**
- C. Venezuela
- D. Perù

37. Quale noto personaggio della vita politica italiana venne rapito e ucciso dai fascisti nel giugno del 1924?

- A. Aldo Moro
- B. Antonio Gramsci
- C. Giacomo Matteotti**
- D. Filippo Turati

38. La Banca Centrale Europea (BCE) ha sede a?

- A. Bruxelles
- B. Roma
- C. Parigi
- D. Francoforte**

39. Quale, tra le seguenti città italiane, è situata più a est?

- A. Belluno
- B. Udine**
- C. La Spezia
- D. Viterbo

40. Carlo Alberto Dalla Chiesa, ucciso dalla mafia il 3 settembre 1982 a Palermo, era:

- A. generale dei Carabinieri e Prefetto di Palermo**
- B. presidente dell'Associazione Commercianti palermitani
- C. un magistrato della Procura di Palermo
- D. presidente della Democrazia Cristiana