

**DOMANDE SELEZIONE PUBBLICA, PER ESAMI, PER
L'ASSUNZIONE A TEMPO PIENO E INDETERMINATO DI N. 3
PERSONE, CAT.C, AREA AMMINISTRATIVA, PRESSO
L'UNIVERSITÀ DEGLI STUDI DI PADOVA - PROVA PRESELETTIVA -
BUSTA 1**

1) Risolvere la seguente operazione: La somma tra $5/2$ e $3,5$

- A Nessuna di queste
- B 5
- C 4.5
- D 6
- E 7

2) Trovare l'incognita

$$\blacktriangle + \square + \square = 7$$

$$\square = ?$$

$$\blacktriangle = \clubsuit + 1$$

$$\clubsuit = 4$$

- A 1
- B 4
- C Nessuna di queste
- D 0
- E 2

3) Quale parte dell'Africa occupa il Marocco?

- A Nord-occidentale
- B Centrale
- C Nord-orientale
- D Sud-orientale
- E Sud-occidentale

4) Trovare l'intruso

- A Ravenna
- B Parma
- C Modena
- D Mantova
- E Forlì

5) In che anno sono entrate in circolazione in Italia le banconote e le monete dell'euro?

- A 1998
- B 2004
- C 2000
- D 1999
- E 2002

6) Trovare l'intruso

- A Il Messaggero
- B La Stampa
- C Corriere della Sera
- D Espresso
- E La Repubblica

GR *g* *llh* *B*

7) In che anno cadde il muro di Berlino?

- A 1987
- B 1990
- C 1986
- D 1989
- E 1992

8) Trovare l'intruso

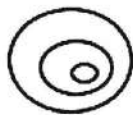
- A U. Foscolo
- B G. Carducci
- C M. Curie
- D N. Mandela
- E R.L. Montalcini

9) Individuare quale fra i cinque diagrammi rappresenta meglio la relazione fra i tre elementi

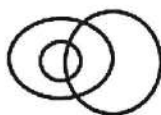
INGLESI

LONDINESI

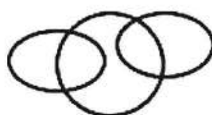
FUMATORI DI PIPA



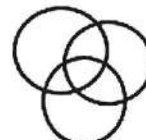
(A)



(B)



(C)



(D)



(E)

- A E
- B B
- C C
- D A
- E D

10) Quale tra i seguenti Paesi non fa parte dell'Unione Europea?

- A Estonia
- B Ungheria
- C Polonia
- D Albania
- E Repubblica Ceca

11) Trovare l'intruso

- A Garibaldi
- B Cavour
- C Luigi XIV
- D Mazzini
- E Vittorio Emanuele II

12) Quale dei seguenti Paesi non confina con lo stato di Israele?

- A Iran
- B Giordania
- C Siria
- D Egitto
- E Libano

13) Trovare l'incognita

B
G Sg Jle

$$\bullet + \diamond + \text{♀} = \heartsuit$$

$$\heartsuit = ?$$

$$\bullet = 5$$

$$\diamond = 4$$

$$\text{♀} = 2$$

- A Nessuna di queste
- B 14
- C 9
- D 10
- E 13

14) Quale tra i seguenti Paesi non fa parte della NATO?

- A Russia
- B Regno Unito
- C Italia
- D Spagna
- E Stati Uniti

15) Proseguire la serie: 2 4 8 16.....

- A 32
- B 34
- C 18
- D 28
- E 20

16) Quale dei seguenti Paesi non è una monarchia costituzionale?

- A Polonia
- B Olanda
- C Spagna
- D Danimarca
- E Belgio

17) Trovare l'intruso

- A Dublino
- B Vancouver
- C Cork
- D Waterford
- E Limerick

18) Quale tra i seguenti Paesi non fa parte del G8?

- A Italia
- B Cina
- C Stati Uniti
- D Canada
- E Giappone

19) Proseguire la serie: 31 36 42 49.....

- A 39
- B 52
- C 55
- D 37
- E 57

20) Dove si trovano le isole Canarie?

- A Oceano Indiano
- B Oceano Atlantico
- C Mar Baltico
- D Oceano Pacifico
- E Mar Mediterraneo

B
G e H

-
- 21) **Trovare l'intruso**
A Ospedale degli Innocenti
B Giardini di Boboli
C Ponte vecchio
D Palazzo Ducale
E Palazzo Pitti

-
- 22) **Quale tra i seguenti Paesi è il solo bagnato dal mare?**
A Bielorussia
B Ungheria
C Slovacchia
D Ucraina
E Moldavia

-
- 23) **Trovare l'intruso**
A KLM
B TGV
C Air France
D Aero Flot
E Lufthansa

-
- 24) **Proseguire la serie: 64 5 53 6 42 7.....**
A 31
B 69
C 8
D 66
E 41

-
- 25) **Trovare l'incognita**

$$\text{♫} + \text{♫} + \text{♫} = 9$$

$$\text{♫} = ?$$

$$\text{♫} + \text{♫} + \text{♫} = 11$$

- A 6
B 5
C 8
D 4
E 7

-
- 26) **Risolvere la seguente operazione: 5 volte la differenza fra 3/5 e 2/5**
A 1
B 5
C Nessuna di queste
D 0
E 2

-
- 27) **Trovare l'intruso**
A Louvre
B National Gallery
C Ermitage
D Uffizi
E Torre Eiffel

-
- 28) **Risolvere la seguente operazione: 3/4 del prodotto tra 36/3 e 3**
A 18
B 27
C Nessuna di queste
D 30
E 9

B
U & H


29) Trovare l'intruso

- A Le Figarò
- B The New York Times
- C The Times
- D CNN
- E El Pais

30) Risolvere la seguente operazione: 3 di più della somma tra 1,4 e 3/5

- A 2
- B 3
- C 6
- D 4
- E 5

31) Inserire la figura che sta al posto del punto interrogativo



A




B



C



D



E

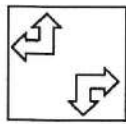

- A B
- B E
- C A
- D D
- E C

32) Trovare l'intruso

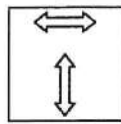
- A Poema
- B Strofa
- C Ode
- D Sonetto
- E Ballata

33) Inserire la figura che sta al posto del punto interrogativo

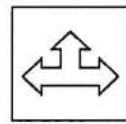
B
de ss de



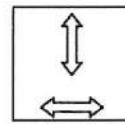
A



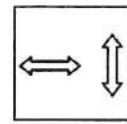
B



C



D



E

- A B
- B D
- C E
- D A
- E C

34) Proseguire la serie: 20 18 15 11.....

- A 6
- B 12
- C 7
- D 10
- E 8

35) Trovare l'intruso

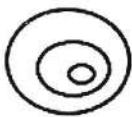
- A Berlino
- B Cracovia
- C Colonia
- D Dresda
- E Stoccarda

36) Individuare quale fra i cinque diagrammi rappresenta meglio la relazione fra i tre elementi

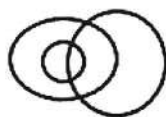
FELINI

TIGRI

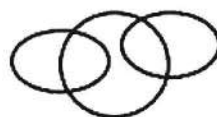
LEONI



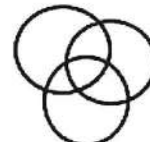
(A)



(B)



(C)



(D)



(E)

- A B
- B A
- C C
- D E
- E D

37) Risolvere la seguente operazione: La somma tra 3,4 e 3/5

B
G S L

- A 4.8
- B Nessuna di queste
- C 3.6
- D 4
- E 5

38) **Trovare l'intruso**


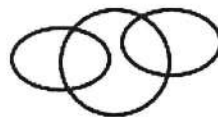
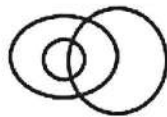
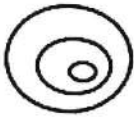
- A Giada
- B Seta
- C Malachite
- D Corniola
- E Agata

39) **Individuare quale fra i cinque diagrammi rappresenta meglio la relazione fra i tre elementi**

MOTOCICLISTI

LAUREATI

GIOVANI



(A)

(B)

(C)

(D)

(E)

- A A
- B B
- C D
- D E
- E C

40) **Trovare l'intruso**

- A Padre
- B Adulto
- C Anziano
- D Adolescente
- E Bambino

B
G S L

**RISPOSTE CORRETTE SELEZIONE PUBBLICA, PER ESAMI, PER
L'ASSUNZIONE A TEMPO PIENO E INDETERMINATO DI N. 3
PERSONE, CAT.C, AREA AMMINISTRATIVA, PRESSO
L'UNIVERSITÀ DEGLI STUDI DI PADOVA - PROVA PRESELETTIVA -
BUSTA 1**

1 D	2 A	3 A	4 D	5 E
6 D	7 D	8 A	9 B	10 D
11 C	12 A	13 A	14 A	15 A
16 A	17 B	18 B	19 E	20 B
21 D	22 D	23 B	24 A	25 D
26 A	27 E	28 B	29 D	30 E
31 E	32 B	33 C	34 A	35 B
36 D	37 D	38 B	39 C	40 A

B
GL *su* *De*