

**Università degli Studi di Padova**  
**PROVA SCRITTA 2**

**Concorso Collaborazione alle  
attività di predisposizione di atti  
e provvedimenti amministrativi  
- cod. 2019N36**

## PROVA SCRITTA 23/07/19 - TEST 2

Collaborazione alle attività di predisposizione di atti e provvedimenti amministrativi - cod. 2019N36 - Università degli Studi di Padova

1. **Maria Callas era una nota:**
  - A) Scultrice
  - B) Soprano
  - C) Pitttrice
  - D) Scrittrice
  
2. **Giovanni Falcone è morto nell'attentato del 1992 a:**
  - A) Bologna
  - B) Bagheria
  - C) Capaci
  - D) Milano
  
3. **La scoperta delle Americhe, da parte di Cristoforo Colombo, risale al:**
  - A) 1501
  - B) 1519
  - C) 1861
  - D) 1492
  
4. **Qual è la regione più a sud dell'Italia?**
  - A) Lazio
  - B) Puglia
  - C) Calabria
  - D) Sicilia
  
5. **Qual è il termine usato per indicare l'incremento dei prezzi, causato dall'aumento della massa monetaria, eccessiva rispetto alle richieste degli scambi?**
  - A) Deflazione
  - B) Ammortamento
  - C) Inflazione
  - D) Disoccupazione
  
6. **Romeo e Giulietta è un'opera teatrale scritta da:**
  - A) Charles Dickens
  - B) William Shakespeare
  - C) Arthur Conan Doyle
  - D) Mark Twain
  
7. **Come viene chiamato il fenomeno dell'assunzione da parte degli sportivi di sostanze chimiche per migliorare le prestazioni fisiche?**
  - A) Doping
  - B) Doming
  - C) Doping Genetico
  - D) Integrazione
  
8. **Glabro vuol dire**
  - A) senza complicazioni
  - B) Senza peli
  - C) senza fronzoli
  - D) senza pudore
  
9. **La "Pietà", opera scultorea situata all'interno della Basilica di San Pietro in Vaticano, è opera di:**
  - A) Giotto
  - B) Bellini
  - C) Michelangelo
  - D) Caravaggio

10. L'INAIL è:

- A) L'Istituto Nazionale per l'Avvio dell'Informatica sul Lavoro
- B) L'Istituto Nazionale per Associati del Lavoro
- C) L'Istituto Nazionale per l'Assistenza per gli Invalidi sul Lavoro
- D) L'Istituto Nazionale per l'Assistenza Infortuni sul Lavoro

11. Il 25 aprile è la ricorrenza denominata:

- A) Festa della Repubblica
- B) Immacolata Concezione
- C) Festa della Liberazione
- D) Unità d'Italia

12. Che cos'è un arcipelago?

- A) una zona paludosa
- B) un territorio pianeggiante ad alta quota
- C) un gruppo di vulcani
- D) un gruppo di isole vicine tra loro, spesso con caratteristiche morfologiche affini

13. La Galleria degli Uffizi si trova a:

- A) Venezia
- B) Padova
- C) Verona
- D) Firenze

14. Chi ha scritto il romanzo "Uno, nessuno e centomila"?

- A) Italo Svevo
- B) Alberto Moravia
- C) Luigi Pirandello
- D) Italo Calvino

15. La Prima Guerra Mondiale si combatté:

- A) dal 1939 al 1945
- B) dal 1924 al 1928
- C) dal 1929 al 1938
- D) dal 1914 al 1918

16. .... sta a CINQUE come SECONDO sta a .....

- |         |          |              |              |
|---------|----------|--------------|--------------|
| A. ANNO | B. ROSA  | C. OTTO      | D. PRIMO     |
| E. SEI  | F. CALDO | G. SETTIMANA | H. BISESTILE |

- ED  A
- CB  B
- GA  C
- HF  D

17. .... sta a ABORIGENO come ARSO sta a .....

- |             |              |            |              |
|-------------|--------------|------------|--------------|
| A. ALLOGENO | B. SELVAGGIO | C. STRETTO | D. AUTOCTONO |
| E. GHIAIA   | F. GUSCIO    | G. ATAVICO | H. ADUSTO    |

- DH  A
- AB  B
- FE  C
- CG  D

18. Quale parola non è simile alle altre tre?

- A) Lustrò      B) Epoca      C) Settimana      D) Secolo

19. .... sta a FETO come FIORE sta a .....

- |            |             |           |             |
|------------|-------------|-----------|-------------|
| A. EREDITÀ | B. EMBRIONE | C. COLORE | D. PLACENTA |
| E. VOLARE  | F. STELO    | G. FRUTTO | H. UTERO    |

- HC  A
- EA  B
- BG  C
- FD  D

20. Quale parola non è simile alle altre tre?

- A) Ruvido      B) Rozzo      C) Piano      D) Ondulato

21. Se la sequenza è "PARI E DISPARI", quale riga è scritta in modo corretto?

- A) 808 655 490 789 306 127 506 457 148 509 166  
B) 150 251 532 895 120 447 274 904 120 447 274  
C) 122 402 149 603 500 401 766 303 987 146 404  
D) 412 905 740 411 813 904 502 115 640 329 110

22. Completare la sequenza: ABC FG LMN QR UVZ ...?

- A) CDE  
B) ABC  
C) GH  
D) LMN

23. Completa la sequenza: ABC 123 HI 45 P ...?

- A) 6  
B) GR  
C) R  
D) 6R

24. Completare la serie: ventitré, 24, venticinque, 26 / doppia vu, X, ipsilon, ...?

- A) Z  
B) 25  
C) Ventisei  
D) Zeta

25. Completa la sequenza: AB 12 CD 34 EF 56 GH ...?

- A) 78  
B) ML  
C) 87  
D) IL

26. Completa la sequenza: A 1 EF 23 L 4 PQ ...?

- A) GH  
B) 2. QR  
C) 56  
D) 57

27. Si consideri la proposizione "Nessun cane ha tre zampe". Dire che tale proposizione è falsa significa che:

- A) almeno un cane ha un numero di zampe diverso da tre  
B) almeno un cane ha tre zampe  
C) tutti i cani hanno quattro zampe  
D) tutti i cani hanno un numero di zampe diverso da tre

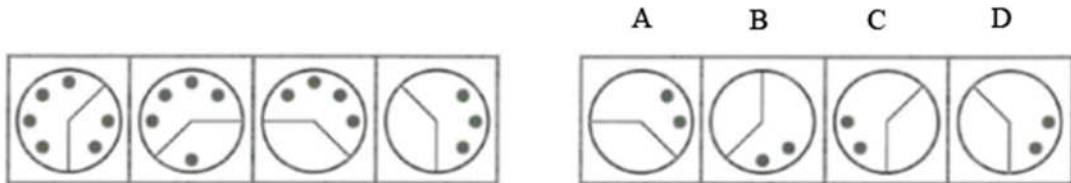
28. Quale dei quattro riquadri di destra completa la serie di immagini a sinistra?



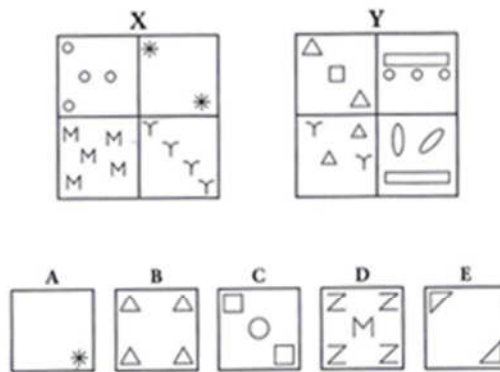
29. Quale dei quattro riquadri di destra completa la serie di immagini a sinistra?



30. Quale dei quattro riquadri di destra completa la serie di immagini a sinistra?



Osserva le seguenti figure e rispondi ai 3 successivi quesiti:



31. In base alle figure precedenti quale affermazione è esatta?

- B appartiene all'insieme Y  A
- E non appartiene all'insieme X  B
- A non appartiene né all'insieme X né all'insieme Y  C
- C appartiene all'insieme X  D


32. In base alle figure precedenti quale affermazione è esatta?

- B ed E appartengono allo stesso insieme  A
- A e C appartengono allo stesso insieme  B
- D ed E appartengono allo stesso insieme  C
- A e D appartengono allo stesso insieme  D

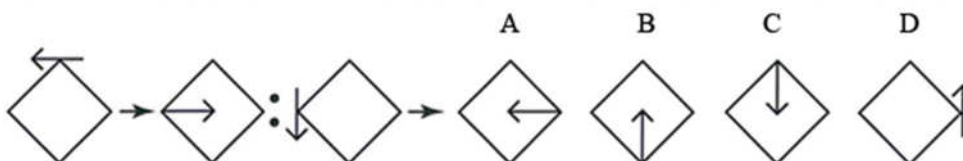
33. In base alle figure precedenti quale affermazione è esatta?

- A appartiene all'insieme X  A
- E non appartiene né all'insieme X né all'insieme Y  B
- C e D appartengono ad insiemi diversi  C
- C appartiene all'insieme Y  D

34. Il primo simbolo sta al secondo come il terzo sta ad un quarto da scegliere tra le quattro figure riportate a destra:



35. Il primo simbolo sta al secondo come il terzo sta ad un quarto da scegliere tra le quattro figure riportate a destra:



36. Quale dei seguenti verbi ha il significato più simile ad "asserire"?

- A) Dimostrare
- B) Riferire
- C) Affermare
- D) Rispondere con sicurezza

37. Indicare quali termini, tra le seguenti serie disposte Orizzontalmente, si avvicinano al significato di "ACCONDISCENDERE".

- A) Discesa – Strada - Corsa
- B) Accordare - Convenire – Mediare
- C) Incertezza - Universale - Mondiale
- D) Permettere - Concedere - Consentire

38. Individuare la coppia di termini che completa la proporzione data. X : musica = Keplero : Y

- A) X = Beethoven; Y = Einstein
- B) X = astronomia; Y = Bach
- C) X = scienziato; Y = Bach
- D) X = arte; Y = scienza

39. MUSICA sta a ..... come FILM sta a HORROR.

- A) Cantare
- B) Spartito
- C) Jazz
- D) Microfono

40. QUADRO sta a ..... come STATUA sta a .....

- A) Chiaro - Scuro
- B) Colore - Caldo
- C) Pittura - Scultura
- D) Acquerello - Pittore

41. Quale serie, tra le seguenti poste orizzontalmente, è corretta?

- A) Cinguettare Gracchiare Tubare
- B) Miagolare Tubare Salvare
- C) Ridere Prendere Abbaiare
- D) Miagolare Mangiare Gemere

42. Scegliere tra le cinque coppie di parole quella che esprime la relazione più simile a quella esistente tra le parole **ASCETICO e CARNALE**:
- A) acidulo-carnoso
  - B) spirituale-fisico
  - C) umano-bestiale
  - D) nobile-volgare
43. Tra le seguenti parole trova quella che abbia lo stesso significato di **“ARGOMENTO”** E **“REALIZZATO”**
- A) Fatto
  - B) Tema
  - C) Prova
  - D) Contenuto
44. **CHIARO** sta a **SCURO** come **BIANCO** sta a .....
- A) Nero
  - B) Beige
  - C) Giorno
  - D) Giallo
45. Individuare la coppia di termini che completa la proporzione data. **PETALO : FIORE = X : Y**
- A) X = PAGINA, Y = LIBRO
  - B) X = TRAM, Y = TRANVIERE
  - C) X = EQUIPAGGIO, Y = MARINAIO
  - D) X = RADICE, Y = TERRA