

Università degli Studi di Padova
PROVA SCRITTA 1

**Concorso Collaborazione alle
attività di predisposizione di atti
e provvedimenti amministrativi
- cod. 2019N36**

PROVA SCRITTA 23/07/19 - TEST 1

Collaborazione alle attività di predisposizione di atti e provvedimenti amministrativi - cod. 2019N36 - Università degli Studi di Padova

- 1. CHIARO sta a SCURO come BIANCO sta a**
 - A) Nero
 - B) Giorno
 - C) Giallo
 - D) Beige
- 2. Quale dei seguenti verbi ha il significato più simile ad "asserire"?**
 - A) Affermare
 - B) Rispondere con sicurezza
 - C) Dimostrare
 - D) Riferire
- 3. MUSICA sta a come FILM sta a HORROR.**
 - A) Jazz
 - B) Microfono
 - C) Cantare
 - D) Spartito
- 4. Quale serie, tra le seguenti poste orizzontalmente, è corretta?**
 - A) Cinguettare Gracchiare Tubare
 - B) Ridere Prendere Abbaire
 - C) Miagolare Mangiare Gemere
 - D) Miagolare Tubare Salvare
- 5. Tra le seguenti parole trova quella che abbia lo stesso significato di "ARGOMENTO" E "REALIZZATO"**
 - A) Prova
 - B) Contenuto
 - C) Fatto
 - D) Tema
- 6. Indicare quali termini, tra le seguenti serie disposte Orizzontalmente, si avvicinano al significato di "ACCONDISCENDERE".**
 - A) Discesa - Strada - Corsa
 - B) Incertezza - Universale - Mondiale
 - C) Permettere - Concedere - Consentire
 - D) Accordare - Convenire - Mediare
- 7. QUADRO sta a come STATUA sta a**
 - A) Pittura - Scultura
 - B) Acquerello - Pittore
 - C) Chiaro - Scuro
 - D) Colore - Caldo
- 8. Individuare la coppia di termini che completa la proporzione data. PETALO : FIORE = X : Y**
 - A) X = EQUIPAGGIO, Y = MARINAIO
 - B) X = RADICE, Y = TERRA
 - C) X = PAGINA, Y = LIBRO
 - D) X = TRAM, Y = TRANVIERE
- 9. Scegliere tra le cinque coppie di parole quella che esprime la relazione più simile a quella esistente tra le parole ASCETICO e CARNALE:**
 - A) acidulo-carnoso
 - B) umano-bestiale
 - C) nobile-volgare
 - D) spirituale-fisico

10. Individuare la coppia di termini che completa la proporzione data. X : musica = Keplero : Y

- A) X = Beethoven; Y = Einstein
- B) X = scienziato; Y = Bach
- C) X = arte; Y = scienza
- D) X = astronomia; Y = Bach

11. Quale parola non è simile alle altre tre?

- A) Lustrò
- B) Epoca
- C) Settimana
- D) Secolo

12. Quale parola non è simile alle altre tre?

- A) Ruvido
- B) Rozzo
- C) Piano
- D) Ondulato

13. sta a CINQUE come SECONDO sta a

- A. ANNO
- B. ROSA
- C. OTTO
- D. PRIMO
- E. SEI
- F. CALDO
- G. SETTIMANA
- H. BIESTILE

- ED A
- CB B
- GA C
- HF D

14. sta a FETO come FIORE sta a

- A. EREDITÀ
- B. EMBRIONE
- C. COLORE
- D. PLACENTA
- E. VOLARE
- F. STELO
- G. FRUTTO
- H. UTERO

- HC A
- EA B
- BG C
- FD D

15. sta a ABORIGENO come ARSO sta a

- A. ALLOGENO
- B. SELVAGGIO
- C. STRETTO
- D. AUTOCTONO
- E. GHIAIA
- F. GUSCIO
- G. ATAVICO
- H. ADUSTO

- DH A
- AB B
- FE C
- CG D

16. Completa la sequenza: AB 12 CD 34 EF 56 GH ...?

- A) 78
- B) 87
- C) IL
- D) ML

17. Completa la sequenza: A 1 EF 23 L 4 PQ ...?

- A) 56
- B) 57
- C) GH
- D) 2. QR

18. Completa la sequenza: ABC 123 HI 45 P ...?

- A) 6
- B) R
- C) 6R
- D) GR

19. Se la sequenza è "PARI E DISPARI", quale riga è scritta in modo corretto?

- A) 808 655 490 789 306 127 506 457 148 509 166
- B) 122 402 149 603 500 401 766 303 987 146 404
- C) 412 905 740 411 813 904 502 115 640 329 110
- D) 150 251 532 895 120 447 274 904 120 447 274

20. Completare la sequenza: ABC FG LMN QR UVZ ...?

- A) GH
- B) LMN
- C) CDE
- D) ABC

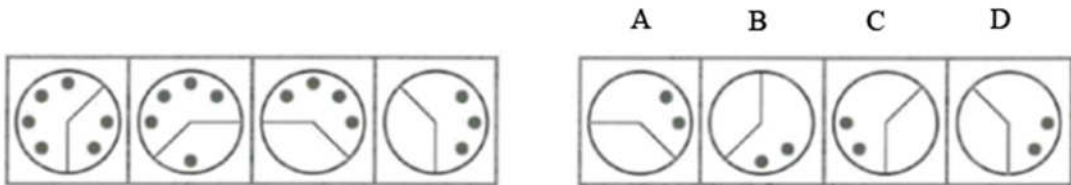
21. Completare la serie: ventitré, 24, venticinque, 26 / doppia vu, X, ipsilon, ...?

- A) Ventisei
- B) Zeta
- C) Z
- D) 25

22. Si consideri la proposizione "Nessun cane ha tre zampe". Dire che tale proposizione è falsa significa che:

- A) almeno un cane ha un numero di zampe diverso da tre
- B) tutti i cani hanno quattro zampe
- C) tutti i cani hanno un numero di zampe diverso da tre
- D) almeno un cane ha tre zampe

23. Quale dei quattro riquadri di destra completa la serie di immagini a sinistra?



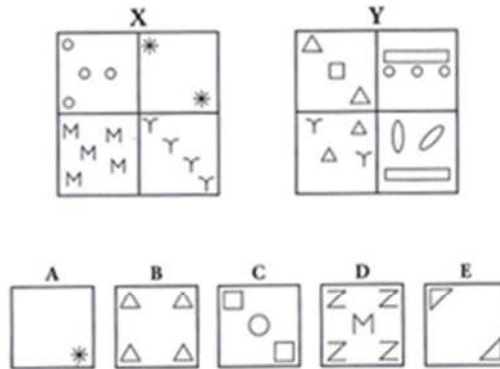
24. Quale dei quattro riquadri di destra completa la serie di immagini a sinistra?



25. Quale dei quattro riquadri di destra completa la serie di immagini a sinistra?



Osserva le seguenti figure e rispondi ai 3 successivi quesiti:



26. In base alle figure precedenti quale affermazione è esatta?

- B appartiene all'insieme Y A
- E non appartiene all'insieme X B
- A non appartiene né all'insieme X né all'insieme Y C
- C appartiene all'insieme X D

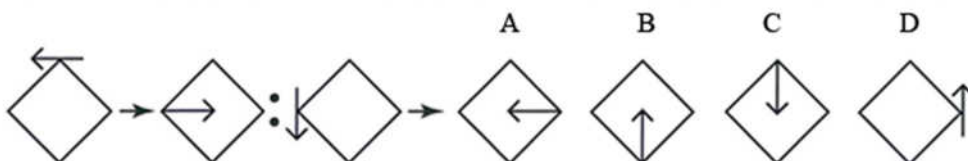
27. In base alle figure precedenti quale affermazione è esatta?

- B ed E appartengono allo stesso insieme A
- A e C appartengono allo stesso insieme B
- D ed E appartengono allo stesso insieme C
- A e D appartengono allo stesso insieme D

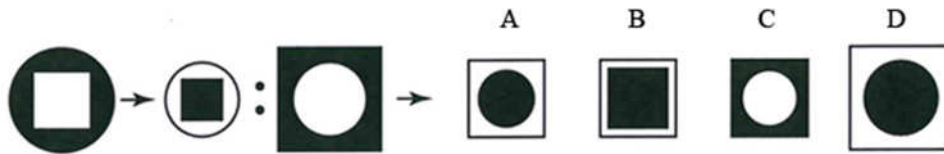
28. In base alle figure precedenti quale affermazione è esatta?

- A appartiene all'insieme X A
- E non appartiene né all'insieme X né all'insieme Y B
- C e D appartengono ad insiemi diversi C
- C appartiene all'insieme Y D

29. Il primo simbolo sta al secondo come il terzo sta ad un quarto da scegliere tra le quattro figure riportate a destra:



30. Il primo simbolo sta al secondo come il terzo sta ad un quarto da scegliere tra le quattro figure riportate a destra:



31. La Prima Guerra Mondiale si combatté:

- A) dal 1939 al 1945
- B) dal 1929 al 1938
- C) dal 1914 al 1918
- D) dal 1924 al 1928

32. La scoperta delle Americhe, da parte di Cristoforo Colombo, risale al:

- A) 1861
- B) 1492
- C) 1501
- D) 1519

33. Che cos'è un arcipelago?

- A) un gruppo di vulcani
- B) un gruppo di isole vicine tra loro, spesso con caratteristiche morfologiche affini
- C) una zona paludosa
- D) un territorio pianeggiante ad alta quota

34. Qual è la regione più a sud dell'Italia?

- A) Lazio
- B) Calabria
- C) Sicilia
- D) Puglia

35. Chi ha scritto il romanzo "Uno, nessuno e centomila"?

- A) Italo Svevo
- B) Luigi Pirandello
- C) Italo Calvino
- D) Alberto Moravia

36. Romeo e Giulietta è un'opera teatrale scritta da:

- A) Charles Dickens
- B) Arthur Conan Doyle
- C) Mark Twain
- D) William Shakespeare

37. Glabro vuol dire

- A) senza fronzoli
- B) senza pudore
- C) senza complicazioni
- D) Senza peli

38. La "Pietà", opera scultorea situata all'interno della Basilica di San Pietro in Vaticano, è opera di:

- A) Michelangelo
- B) Caravaggio
- C) Giotto
- D) Bellini

39. Maria Callas era una nota:

- A) Pittrice
- B) Scrittrice
- C) Scultrice
- D) Soprano

40. **La Galleria degli Uffizi si trova a:**
- A) Venezia
 - B) Verona
 - C) Firenze
 - D) Padova
41. **Come viene chiamato il fenomeno dell'assunzione da parte degli sportivi di sostanze chimiche per migliorare le prestazioni fisiche?**
- A) Doping
 - B) Doping Genetico
 - C) Integrazione
 - D) Doming
42. **Qual è il termine usato per indicare l'incremento dei prezzi, causato dall'aumento della massa monetaria, eccessiva rispetto alle richieste degli scambi?**
- A) Deflazione
 - B) Inflazione
 - C) Disoccupazione
 - D) Ammortamento
43. **Giovanni Falcone è morto nell'attentato del 1992 a:**
- A) Bologna
 - B) Capaci
 - C) Milano
 - D) Bagheria
44. **L'INAIL è:**
- A) l'Istituto Nazionale per l'Assistenza per gli Invalidi sul Lavoro
 - B) L'Istituto Nazionale per l'Assistenza Infortuni sul Lavoro
 - C) L'Istituto Nazionale per l'Avvio dell'Informatica sul Lavoro
 - D) L'Istituto Nazionale per Associati del Lavoro
45. **Il 25 aprile è la ricorrenza denominata:**
- A) Festa della Repubblica
 - B) Festa della Liberazione
 - C) Unità d'Italia
 - D) Immacolata Concezione